



Matex

32 de teste pentru exersarea
competențelor matematice


Clasa pregătitoare




Cuprins

Test 1	3
Test 2	4
Test 3	5
Test 4	6
Test 5	7
Test 6	8
Test 7	9
Test 8	10
Test 9	11
Test 10	12
Test 11	13
Test 12	14
Test 13	15
Test 14	16
Test 15	17
Test 16	18
Răspunsuri	19-22
Test 17	23
Test 18	24
Test 19	25
Test 20	26
Test 21	27
Test 22	28
Test 23	29
Test 24	30
Test 25	31
Test 26	32
Test 27	33
Test 28	34
Test 29	35
Test 30	36
Test 31	37
Test 32	38

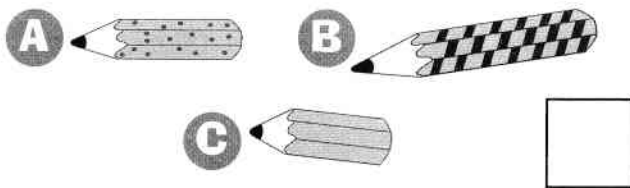
TESTUL



1 Unde sunt mai multe flori?



2 Care este creionul mai lung?

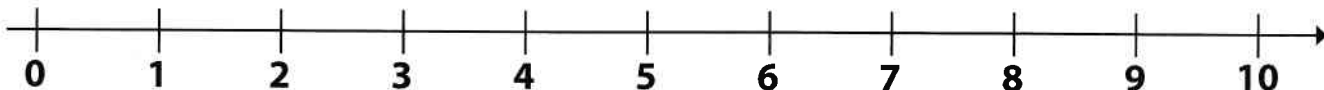


$$3 + 1 = \square$$

4 Câte pătrate sunt?



5 Un număr mai mic decât 6 este .



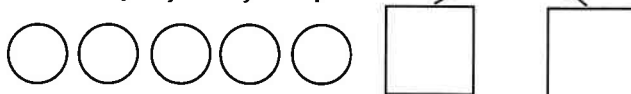
$$\square + \square = \square$$

7 Colorează triunghiul.



Este ora .

9 Colorează cerculețe folosind două culori și scrie cum îl poți obține pe 5.



$$10 \quad 7 + 1 = \square$$

Primești o pentru fiecare exercițiu rezolvat corect. Numără steluțele obținute.



TESTUL



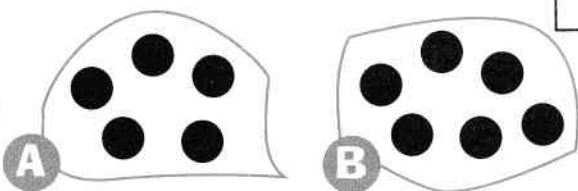
1 Încercuiește ursulețul din mijloc.



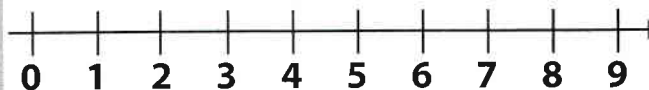
2

$$2 + 2 = \square$$

3 Unde sunt mai puține bile?



4 Care este vecinul mai mic al numărului 7?



5 Câte fete sunt?




6 Colorează cerculețe folosind două culori și scrie cum îl poți obține pe 6.

6




7 Este ora



8 Scrie numerele care lipsesc.

0	1	□	□	4	□	6	□	□	9
---	---	---	---	---	---	---	---	---	---

9 Câte triunghiuri sunt?



10 $3 + 2 = \square$

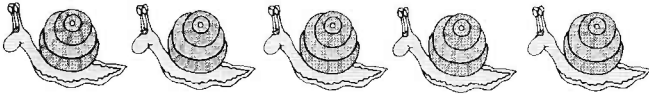
Primești o pentru fiecare exercițiu rezolvat corect. Numără stelulele obținute.

SOSIRE

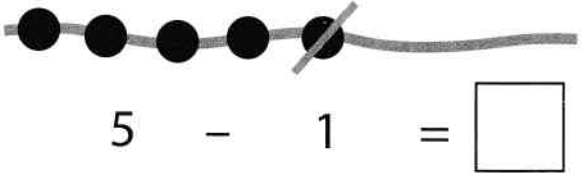




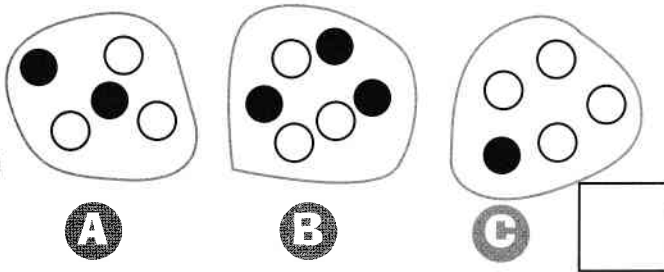
1 Încercuiește ultimul melc.




2



3 În care mulțime numărul bilelor albe este egal cu cel al bilelor negre?



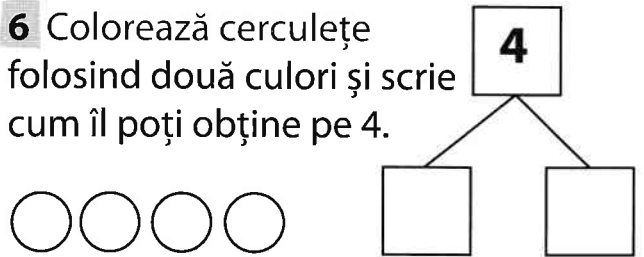
4 Cine este mai greu?



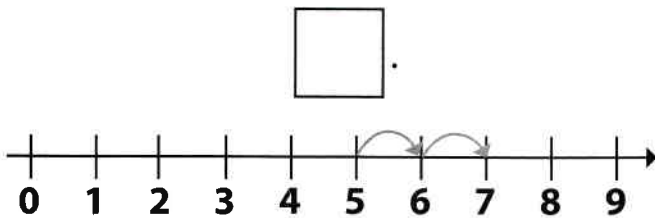
5 Scrie vecinii numărului 7.



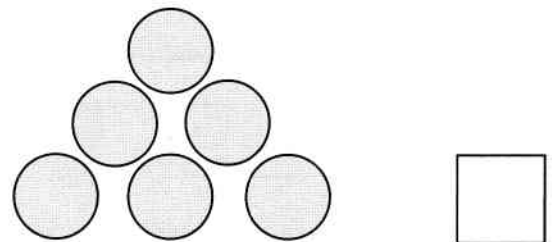
6 Colorează cerculețe folosind două culori și scrie cum îl poți obține pe 4.



7 Numărul cu 2 mai mare decât 5 este



8 Câte bile sunt?



9 Colorează pătratul.



10

$$8 + 1 = \square$$


Primești o pentru fiecare exercițiu rezolvat corect. Numără steluțele obținute.





TESTUL

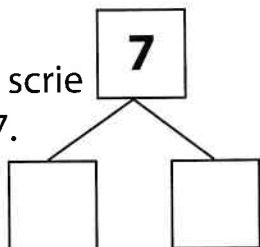



1 
 $4 + 2 = \square$

2 Scrie numerele care lipsesc.

<input type="text"/>	1	2	<input type="text"/>	4	<input type="text"/>	6	<input type="text"/>	8	9
----------------------	---	---	----------------------	---	----------------------	---	----------------------	---	---

3 Colorează cerculețe folosind două culori și scrie cum îl poți obține pe 7.



4 Numărul cu 1 mai mic decât 9 este



5

Ana



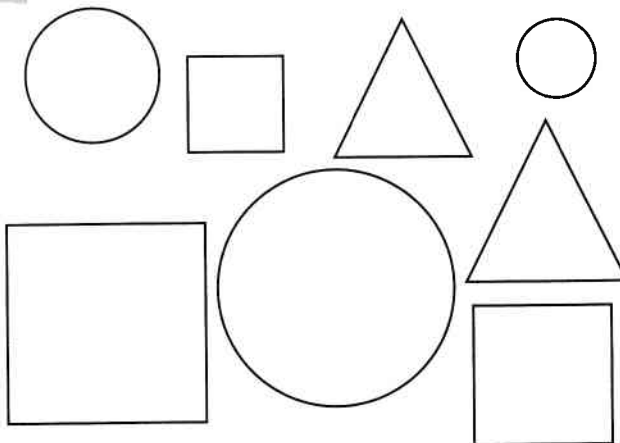
Maria




Ana are bomboane.

Maria are bomboane.

6 Colorează cercurile.



7 Este ora




8



$5 - 2 = \square$

9 $2 + 1 = \square$

10 $2 + \square = 3$

Primești o  pentru fiecare exercițiu rezolvat corect. Numără steluțele obținute.

SOSIRE

